

विषय कोड

8 0 8 1

राज्य स्तरीय आकलन (SA-1)

सत्र 2019-20

कक्षा - 8

विषय - सामाजिक विज्ञान

हिन्दी माध्यम

समय - 02:30 घंटे

पूर्णांक -

4 0

परीक्षार्थी आई डी

परीक्षार्थी का नाम शाला का नाम

प्राप्तांक (अंकों में) (शब्दों में)

हस्ताक्षर प्रधान पाठक हस्ताक्षर निरीक्षक

केवल मूल्यांकन हेतु

PAPER CODE

STUDENT
CODE

केन्द्राध्यक्ष हस्ताक्षर एवं सील

हस्ताक्षर मूल्यांकनकर्ता

1 10

2 11

3 12

4 13

5 14

6 15

7 16

8 17

9

कुल प्राप्तांक
(Total Marks Obtained)

दिनांक:

दिनांक:

निर्देश :-

1. सभी प्रश्न हल करना अनिवार्य है।
2. दिये गये प्रश्नों के उत्तर इसी प्रश्न पत्र में ही हल कीजिए।

सही विकल्प चुनकर लिखिए –

(1 X 5 = 5 अंक)

प्रश्न 1. यह चित्र निम्नलिखित को दर्शाता है।



- | | |
|------------------|----------------------|
| अ. अनवीकरणीय | ब. नवीकरणीय |
| स. खनन प्रक्रिया | द. संरक्षण प्रक्रिया |

उत्तर—

प्रश्न 2. उपनिवेशीय शासन के दौरान भारतीय हथकरधा उद्योग के पतन के क्या कारण थे?

- अ. मशीनों द्वारा निर्मित वस्तुओं का ब्रिटेन से आयात करना
- ब. भारत द्वारा ब्रिटेन को कम कीमत पर वस्तुओं का निर्यात करना
- स. भारत से ब्रिटेन को निर्यात किए जाने वाले कच्चे माल की नीतियाँ
- द. भारतीय उच्च वर्ग द्वारा पश्चिमी जीवन शैली को अपनाना

उत्तर—

प्रश्न 3. क्रिकेट खिलाड़ी सचिन तेंदुलकर को राष्ट्रपति द्वारा संसद के किस सदन के लिए मनोनित किया गया ?

- | | |
|--------------|----------------|
| अ. लोक सभा | ब. विधान सभा |
| स. राज्य सभा | द. विधान परिषद |

उत्तर—

प्रश्न 4. "सुनहरा रेशा" से अभिप्राय है—

- | | |
|---------|---------------|
| अ. चाय | ब. कपास |
| स. पटसन | द. नारियल जटा |

उत्तर—

प्रश्न 5. "बेटी बचाओ – बेटी पढ़ाओ" योजना प्राचीन भारत के किस कुरीतियों का अंत करता है?

अ. बाल विवाह

ब. दहेज प्रथा

स. बहु विवाह

द. कन्या वध

उत्तर—

निर्देश : प्रश्न क्रमांक 6 से 10 तक अति लघु उत्तरीय प्रश्न हैं। (2 X 5 = 10 अंक)

प्रश्न 6. यदि आपके शरीर को कोई आपत्तिजनक तरीके से छूता है, तो आप क्या करेंगे?

उत्तर—

.....
.....
.....

प्रश्न 7. चित्र में दिए गए मृदा विन्यास को नामांकित कीजिए।



A
B
C
D

प्रश्न 8. "उपनिवेशवाद" के किन्ही दो परिणाम लिखिए ?

उत्तर—

.....
.....
.....

प्रश्न 9. एफ.आई. आर. क्या है?

उत्तर—

.....

.....

.....

प्रश्न 10. मिलेट फसलें किसे कहते हैं? इन फसलों के नाम लिखिए।

उत्तर—

.....

.....

.....

निर्देश:—प्रश्न क्र. 11 से 15 तक लघु उत्तरीय प्रश्न है। (3 X 5 = 15 अंक)

प्रश्न 11. कारखानों की स्थापना से समाज में क्या बदलाव हुआ? अपने शब्दों में लिखिए।

उत्तर:—

.....

.....

.....

.....

प्रश्न 12. नीचे दिए गए चित्रों को देखकर कर बताइए कि ये किस मौलिक अधिकार से संबंधित है? मौलिक अधिकारों का एक-एक उदाहरण दीजिए (कोई तीन)



(1)



(2)



(3)



(4)



(5)



(6)

उत्तर:-

.....

.....

.....

.....

प्रश्न 13.

देश	भूमि उपयोग के अनुसार क्षेत्रफल का प्रतिशत			
	फसल भूमि	चारागाह	वन	अन्य उपयोग
आस्ट्रिया	6	56	14	24
ब्राजील	9	20	66	5
कनाडा	5	4	39	52
चीन	10	34	14	42
फ्रांस	35	21	27	17
भारत	57	4	22	17

ऊपर दी गई सारणी का अवलोकन कर निम्नलिखित प्रश्नों के उत्तर दीजिए-

- I. किस देश में फसल भूमि क्षेत्र सबसे कम है?
- II. भारत में कौन सा क्षेत्र है जहाँ भूमि का उपयोग सबसे अधिक किया जाता है ?
- III. ऐसे कौन- कौन से देश हैं जहाँ वनों का क्षेत्र 33 प्रतिशत से अधिक हैं?

अथवा

जल विद्युत से होने वाली लाभ व हानियों को लिखिए।

उत्तर:—

.....

.....

.....

.....

प्रश्न 14. राष्ट्रपति की किन्हीं तीन शक्तियों का वर्णन किजिए।

उत्तर:—

.....

.....

.....

.....

प्रश्न 15. भारतीय समाज में 'पुनर्विवाह' के लिए क्या-क्या प्रयास किए गए ?

उत्तर:—




.....

.....

.....

.....

प्रश्न 17. दिए गए समाज सुधारकों को पहचान कर उनके द्वारा किए गए सामाजिक कार्यों का उल्लेख कीजिए—

क्र.	चित्र	नाम	किए गए सामाजिक कार्य
1			
2			
3			
4	